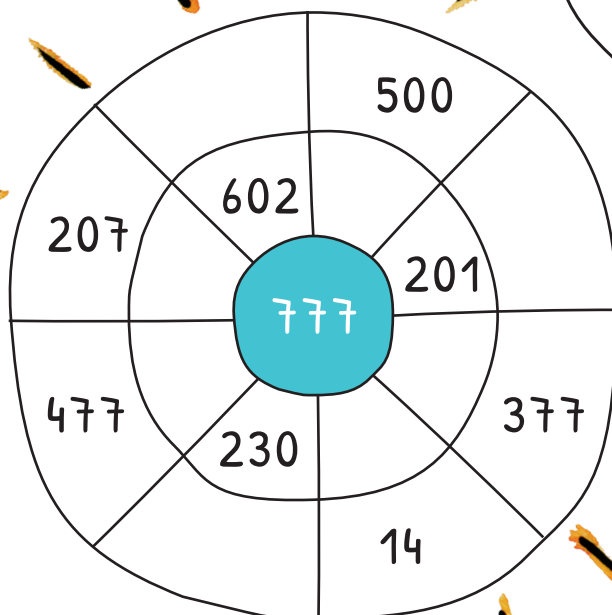
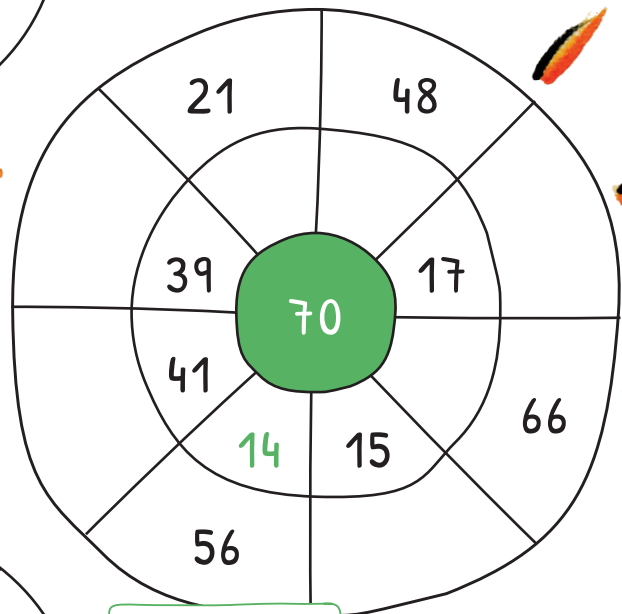
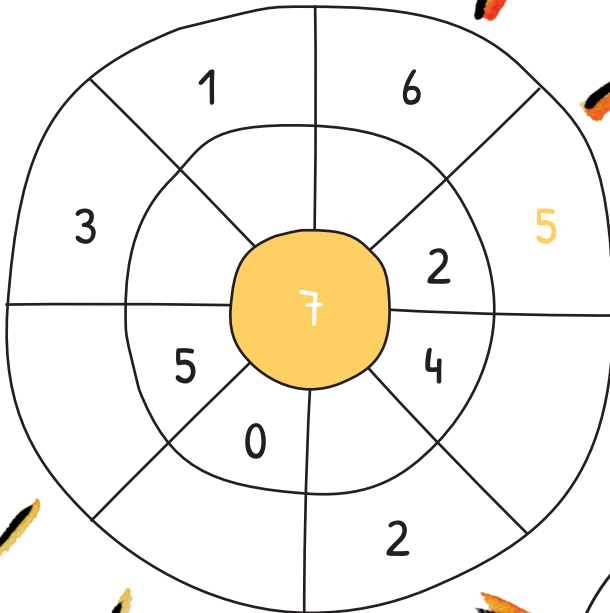


Lama-Level:   

## RECHEN-RAD

Fülle die Lücken.

Die Zahlen in den beiden  
äußeren Kreisen ergeben  
zusammen die Zahl in  
der Mitte.


Rechentipp:  $70 - 56 = 14$ 

## WER BIN ICH?

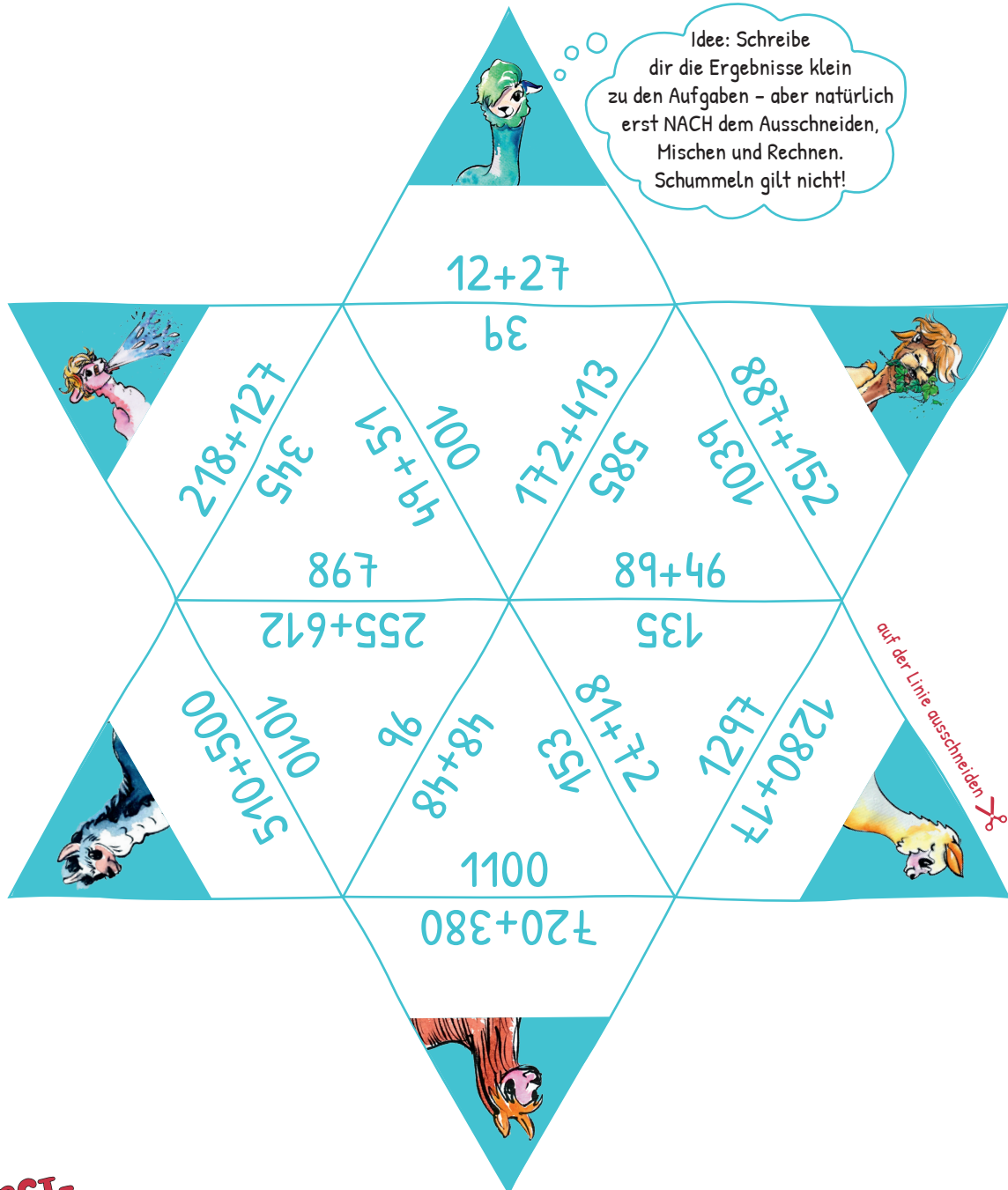
Finde heraus, wer ich bin.

1. Ich bin ein ganz freundliches Lama.
2. Meine Augenfarbe ist schwarz.
3. Ich habe keine tief hängenden Ohren.
4. Meine Schnauze ist hell.
5. Um mich herum haben einige Lamas gelbes Fell.
6. Mit meiner Fellfarbe steche ich oft hervor.
7. Das Lama neben mir hat grünes Haar.

Male hier  
die Lösung!



Den Rechen-Stern gibt es auf dieser und der vorherigen Seite in zwei Schwierigkeitsgraden. Schneide die Dreiecke aus, mische und lege den Stern richtig zusammen. Passe dabei auf, dass du die richtige Farbe, entsprechend deines Lama-Levels, verwendest.



Lama-Level:

# MAL-EIMER

•	7	3
6		
4		

•	5	9
8		
10		

•	8	10
2	16	
7		70

Es beginnt einfach!  
Rechne aus.

Oh nein!  
Einige Zahlen sind aus den Eimern gefallen!  
Setze die Zahlen an den richtigen Stellen ein.

•	6	
	12	
9		

- 27
- 2
- 3
- 6
- 54


•		7
4		
		35

- 8
- 28
- 32
- 5
- 40

•	9	
	45	
9		

- 81
- 6
- 30
- 5
- 54

Beantworte die Fragen.

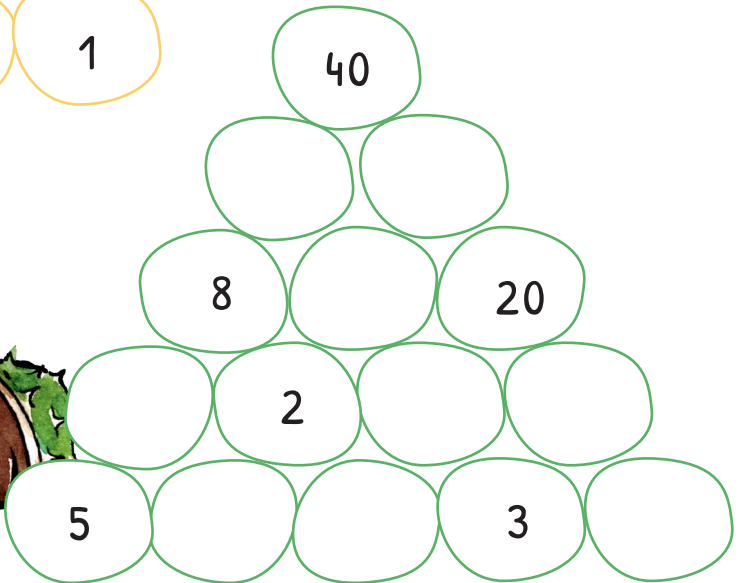




1. Bibi Blocksberg ist eine ...
2. Fest, bei dem man von Tür zu Tür geht, um Süßigkeiten zu bekommen
3. Sichtbarer, feuchter Dunst
4. Blätter von Bäumen und Sträuchern
5. Wird meist nachts im Freien entzündet
6. Saal mit großer Leinwand, auf der Filme gezeigt werden
7. Herbstliche, runde und meist orangene Frucht
8. Fällt aus Wolken hinunter
9. Braune Früchte, die sich in einer stacheligen Hülle befinden und im Herbst vom Baum fallen

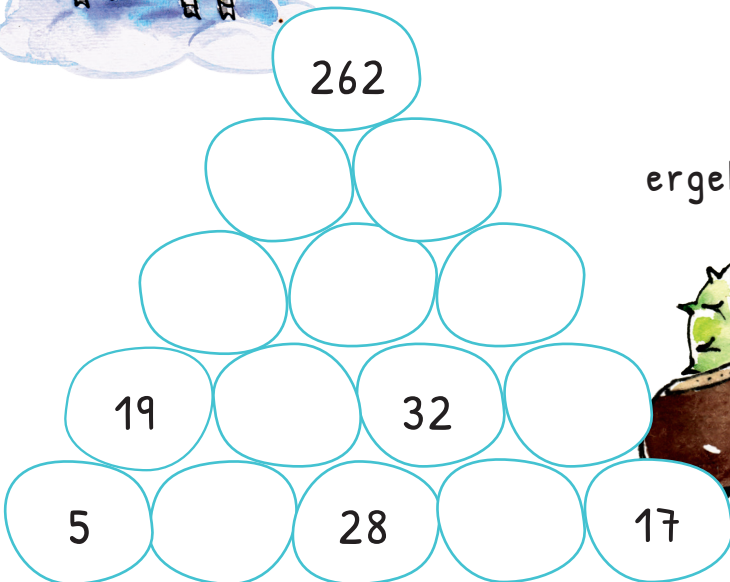


# KASTANIEN-PYRAMIDEN













Setze die fehlenden Zahlen ein.















Zwei Kastanien nebeneinander ergeben die Zahl darüber.



Welche Zahlen verstecken sich unter den Lamas?

1	2	3	4	5	6		8	9	10
11									20
21									30
31									40
41									50
51									
61									70
									80
81									90
91	92		94	95	96	97	98	99	100



					806				
					816				
									
									
									
									
									
									
	882								
	892								





Lama-Level:   

## EINKAUFEN

Kreuze an.

Ein Lolli kostet 1,20 €.  
Welches Lama kann  
sich einen Lolli kaufen?



Ja  
 Nein

Ja  
 Nein

Ja  
 Nein

Ja  
 Nein

Ja  
 Nein

Ja  
 Nein

Findest du heraus, welche Zahlen du einsetzen musst, damit die Gleichungen stimmen?



$$\text{Walnuss} + \text{Walnuss} = 14$$

$$\text{Walnuss} + \text{Eiche} = 11$$

$$\text{Walnuss} + \text{Eiche} + \text{Blatt} = 14$$

$$\text{Pilz} - \text{Walnuss} = 5$$

$$\text{Pilz} + \text{Blatt} + \text{Blatt} = 18$$

$$\text{Walnuss} + \text{Kiefer} + \text{Kiefer} = 17$$

$$\text{Walnuss} = \underline{\hspace{2cm}}$$

$$\text{Eiche} = \underline{\hspace{2cm}}$$

$$\text{Blatt} = \underline{\hspace{2cm}}$$

$$\text{Pilz} = \underline{\hspace{2cm}}$$


$$\text{Kiefer} = \underline{\hspace{2cm}}$$

$$\text{Blatt} + \text{Pilz} + \text{Walnuss} + \text{Eiche} + \text{Kiefer} = \underline{\hspace{2cm}}$$

# MEIN SCHÖNSTER FERIENTAG



Das habe ich heute erlebt:



Hier war ich:



Wir sind dorthin gekommen ...

- mit dem Fahrrad
- mit dem Auto
- mit dem Bus
- zu Fuß
- \_\_\_\_\_



Dabei war

Das Tolle daran war

Platz für ein Foto oder ein Bild

Als Andenken habe ich

Am besten kopierst du dir diese Seite, bevor du sie ausfüllst.  
Dann kannst du mehrere Erlebnisse festhalten.

mitgenommen.

