

Tausenderbuchkartei - Differenzierungsstufe 3

1

Finde den Vorgänger von 714.

Trage ihn im Tausenderbuch ein.

2

Finde den Nachfolger von 641.

Trage ihn im Tausenderbuch ein.

3

Finde den Zehner vor 439.

Trage ihn im Tausenderbuch ein.

4

Finde den Zehner vor 779.

Trage ihn im Tausenderbuch ein.

5

Finde den Zehner nach 775.

Trage ihn im Tausenderbuch ein.

6

Finde den Zehner nach 861.

Trage ihn im Tausenderbuch ein.

7

Finde den Hunderter vor 692.

Kreise ihn im Tausenderbuch ein.

8

Finde den Hunderter nach 812.

Kreise ihn im Tausenderbuch ein.

9

Finde den Hunderter nach 601.

Kreise ihn im Tausenderbuch ein.

10

Finde die Zahl mit drei gleichen
Ziffern auf Seite 7.

Trage sie im Tausenderbuch ein.

11

Finde die Zahl mit drei gleichen
Ziffern auf Seite 2.

Trage sie im Tausenderbuch ein.

12

Finde die Zahl mit drei gleichen
Ziffern auf Seite 5.

Trage sie im Tausenderbuch ein.

13

Finde Zahl mit drei gleichen
Ziffern auf Seite 6.

Trage sie im Tausenderbuch ein.

14

Finde die 5. Zehnerzahl
auf Seite 10.

Trage sie im Tausenderbuch ein.

15

Finde die 4. Zehnerzahl
auf Seite 9.

Trage sie im Tausenderbuch ein.

16

Finde die Zahl auf Seite 2,
die die Quersumme 19 hat.

Trage sie im Tausenderbuch ein.

17

Du stehst auf der 445.
Gehe drei Schritte nach rechts
und vier Schritte nach oben.
Auf welcher Zahl stehst du?

Trage sie im Tausenderbuch ein.

18

Du stehst auf der 893.
Gehe sieben Schritte nach oben
und einen Schritt nach rechts.
Auf welcher Zahl stehst du?

Trage sie im Tausenderbuch ein.

19

Finde die größte Zahl mit
einer 7 an der Einerstelle.

Trage sie im Tausenderbuch ein.

20

Finde die größte Zahl mit
einer 8 an der Zehnerstelle.

Trage sie im Tausenderbuch ein.

21

Finde die kleinste Zahl mit einer 3 an der Zehnerstelle.

Kreise sie im Tausenderbuch ein.

22

Finde die größte Zahl mit einer 5 an der Hunderterstelle.

Trage sie im Tausenderbuch ein.

23

Finde die größte Zahl mit einer 6 an der Zehnerstelle auf Seite 8.

Trage sie im Tausenderbuch ein.

24

Zähle von der 912 elf Schritte weiter.
Auf welcher Zahl stehst du?

Trage sie im Tausenderbuch ein.

25

Zähle von der 405 21 Schritte weiter.
Auf welcher Zahl stehst du?

Trage sie im Tausenderbuch ein.

26

Finde diese Zahl:
Sie steht auf der 3. Seite. Sie hat doppelt so viele Zehner wie Hunderter und doppelt so viele Einer wie Zehner.

Kreise sie im Tausenderbuch ein.

27

Finde diese Zahl:
Sie steht auf der 9. Seite. Sie hat halb so viele Zehner wie Hunderter und halb so viele Einer wie Zehner.

Trage sie im Tausenderbuch ein.

28

Finde diese Zahl:
Du stichst mit einer Nadel vom Feld 21 einmal durch das ganze Buch.
Welche Zahl triffst du auf Seite 4?

Trage sie im Tausenderbuch ein.

29

siebenhundertsechs

Trage die Zahl im Tausenderbuch ein.

30

sechshundertzwölf

Trage die Zahl im Tausenderbuch ein.

31

achthundertachtundsiebzig

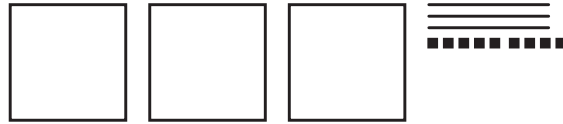
Trage die Zahl im Tausenderbuch ein.

32

Welche Zahl ist das?

Trage sie im Tausenderbuch ein.

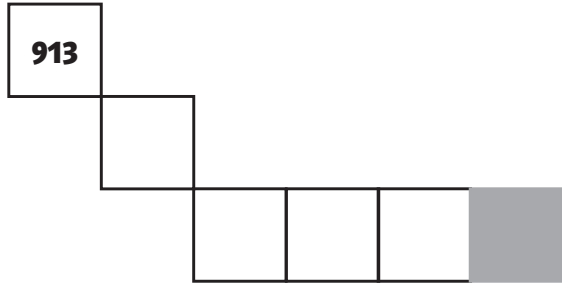
33



Welche Zahl ist das?

Trage sie im Tausenderbuch ein.

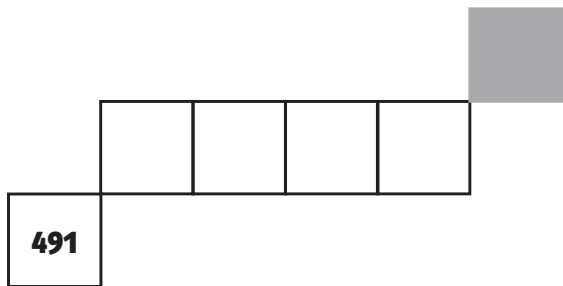
34



Welche Zahl steht in dem grauen Feld?

Trage sie im Tausenderbuch ein.

35



Welche Zahl steht in dem grauen Feld?

Trage sie im Tausenderbuch ein.