

Mein Minibuch

Immer
mal 5.



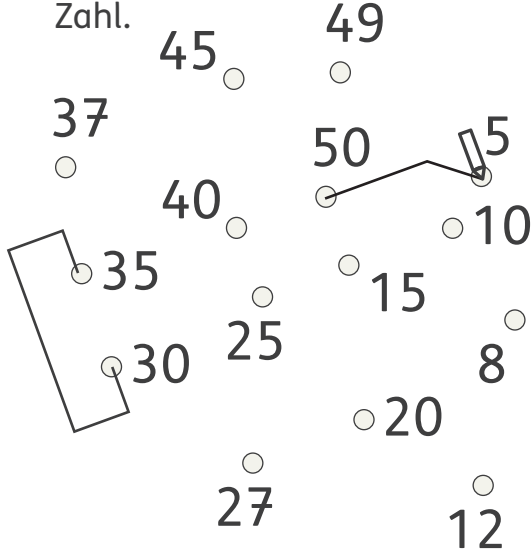
Thema: Einmaleins mit 5

Von:

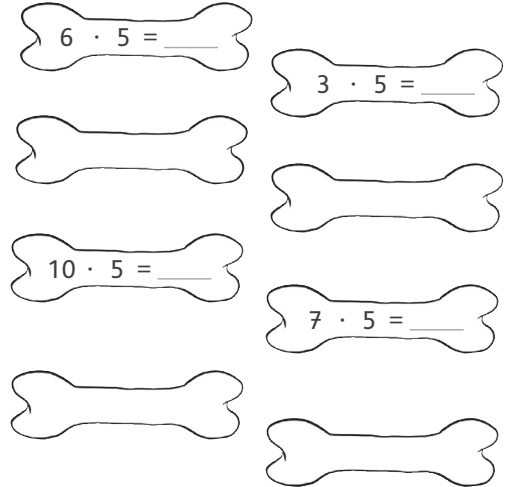
Male die Ergebniszahlen
der 5er-Reihe an.

16	25	18
5	36	35
42	50	14
20	38	10
48	30	49
15	45	40

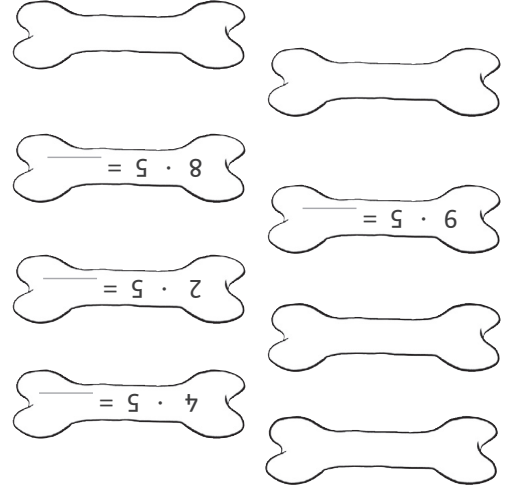
Verbinde die Ergebniszahlen
der 5er-Reihe in der
richtigen Reihenfolge.
Beginne mit der kleinsten
Zahl.



Notiere die Tauschaufgabe
und rechne. Male Aufgabe
und Tauschaufgabe in der
gleichen Farbe aus.



Notiere die Tauschaufgabe
und rechne. Male Aufgabe
und Tauschaufgabe in der
gleichen Farbe aus.



Ida hat 4 Tüten mit Bonbons.
In jeder Tüte sind 5 Stück.
Frage: Wie viele Bonbons
sind es insgesamt?

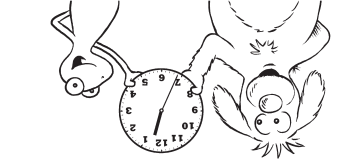


Lösungsweg:



Antwort:

www.grundschul-blog.de
© Ernst Klett Verlag GmbH, Stuttgart 2021 | www.klett.de |
Alle Rechte vorbehalten. Von dieser Druckvorlage ist die
Vervielfältigung für den eigenen Unterrichtsgebrauch gestattet.
Die Kopiergebühren sind abgegolten.
Illustrator: Angelika Citak, Wipperfurth: Oliver Eger, Langerhagen:
Florian Schmitt, Hildesheim



Tempo, Tempo!
Sage die 5er-Reihe.
Dein Partner stoppt
dabei die Zeit.
Ich benötige ____ s.