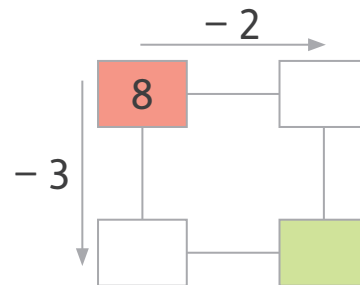
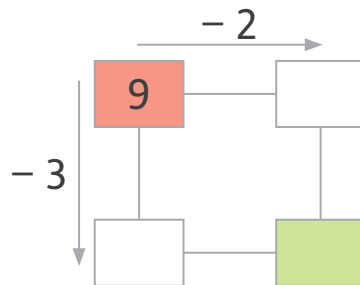
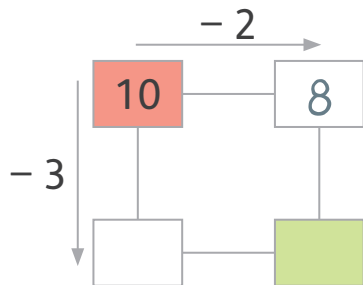
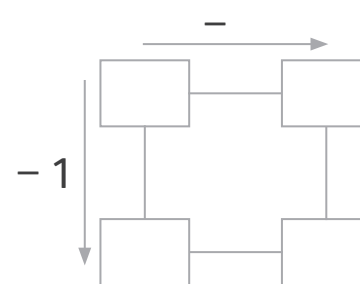
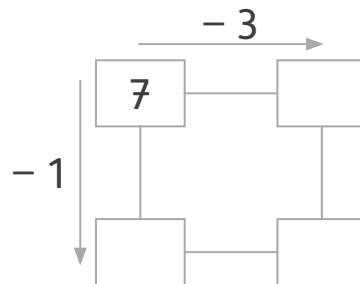
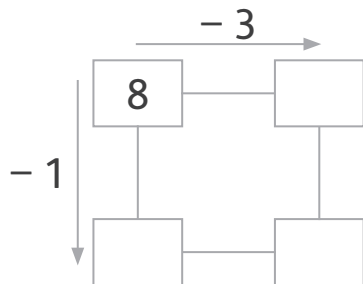


- Löse die Zahlengitter.

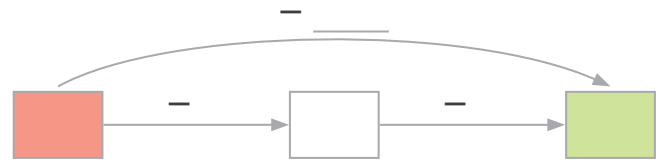
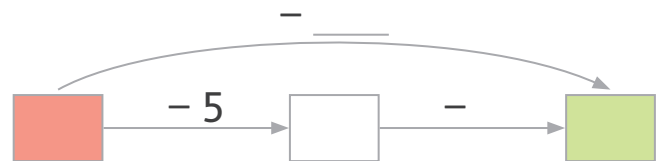
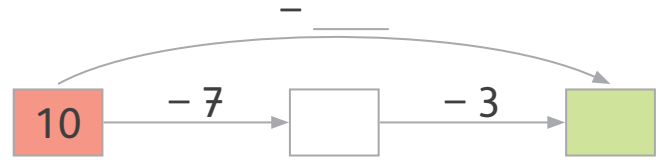
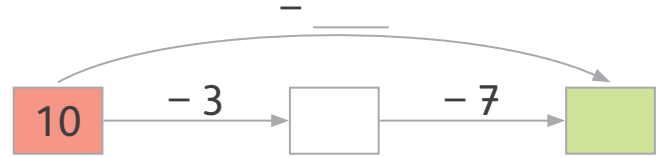
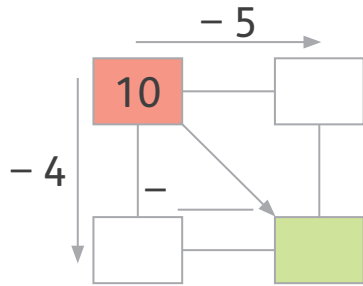
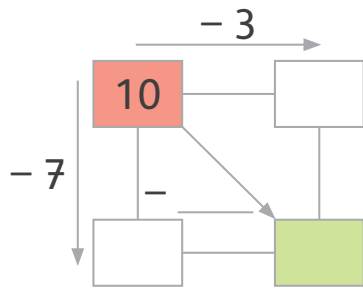


Meine Beobachtung: **Startzahl** : -1 **Zielzahl** : _____

Ist das immer so? Prüfe.



Was fällt dir auf?

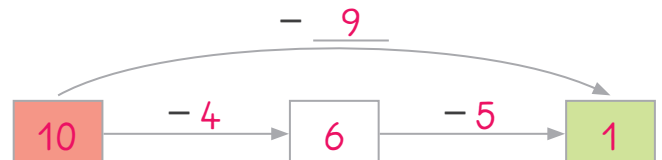
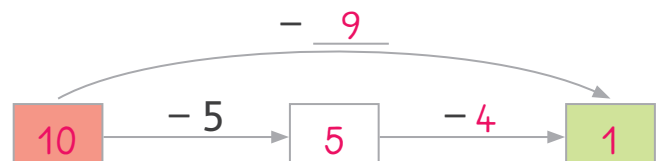
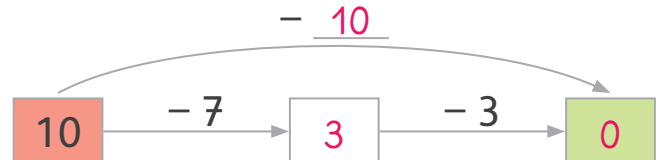
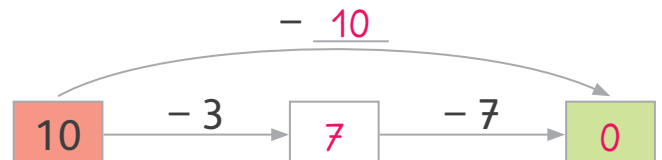
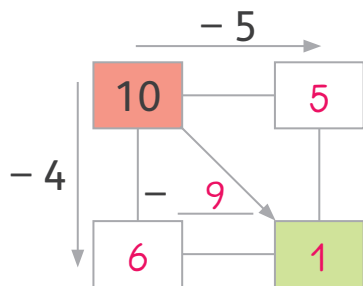
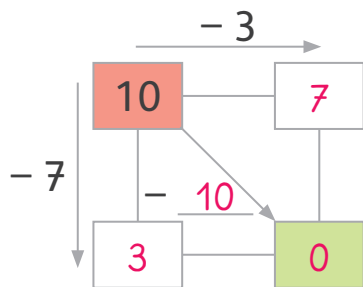


Zusatzaufgaben zu MiniMax Forderheft 1, Teil A, Seite 27

27.1

Minusaufgaben üben Lösungen

Was fällt dir auf?






Lösungen: Zusatzaufgaben zu MiniMax Forderheft 1, Teil A, Seite 27




27.1

- Lege die Formen passend auf das Spielfeld.

Spiel 1

-  oben links
-  unten rechts
-  oben rechts

Spiel 2

-  unten links
-  oben rechts
-  oben links


Spiel 3

-  oben links
-  oben rechts
-  unten links
-  unten rechts

Spiel 4


-  oben links
-  unten rechts
-  oben rechts
-  unten links

Schneide das Spielfeld und die Formen aus.



- 🔍 Finde eigene Spiele.

Checkliste: Arbeitsplatz einrichten



1. Mein Tisch ist leer.



2. Ich lege alles auf den Tisch, was ich zum Arbeiten brauche:

☐

Wochenplan/Tagesplan

☐

angespitzten Bleistift

☐

Füller

☐

Radiergummi

☐

Arbeitsheft

☐

Heft



3. Ich schlage die Seite mit der Aufgabe auf, die bearbeitet werden soll.



- Wie rechnest du? Markiere und rechne.

Zuerst bis zur 10

$$6 + 6 = 12$$

$$6 + 5 =$$

$$9 + 7 =$$

$$4 + 9 =$$

$$8 + 3 =$$

$$8 + 8 =$$

Verdoppeln

$$4 + 7 =$$

$$8 + 4 =$$

$$6 + 7 =$$

$$9 + 2 =$$

$$7 + 8 =$$

$$5 + 9 =$$

Zehnertrick

$$3 + 9 =$$

$$5 + 8 =$$

$$6 + 9 =$$

$$5 + 7 =$$

$$6 + 8 =$$

$$9 + 8 =$$

● $8 + 9 = \underline{\quad}$

Wie rechnest du?

Wie könnte man die Aufgabe auch rechnen?



Zehnerübergang: Plusaufgaben Lösungen

● $8 + 9 = \underline{17}$

Wie rechnest du? **verschiedene Möglichkeiten**

Wie könnte man die Aufgabe auch rechnen?

Zehnerübergang: Plusaufgaben

Wie rechnest du?

Zuerst bis zur 10
Verdoppeln
Zehnertrick

$$7 + 8 = \underline{\quad}$$



Zehnerübergang: Minusaufgaben

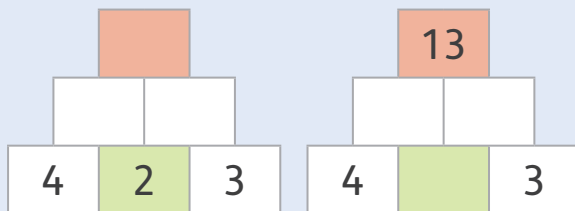
Wie rechnest du?

Zurück bis zur 10
Ergänzen
Zehnertrick


$$13 - 9 = \underline{\quad}$$



Plus- und Minusaufgaben üben



Sachrechnen



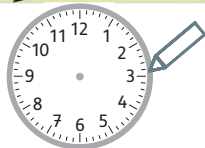
🔍 Bilde eine
Frage und
eine Antwort.



Toll, _____!



- Wie lange schläft Max?




___ Stunden

Wie lange tanzt Mini?


 :

___ Stunden

Wie lange _____ ?



___ Stunden

 :
