


Schriftliche Addition

Bündele 10 Einer in 1 Zehner:


$24 + 39$



	Z	E
	2	4
+	3	9
	6	13
		3

$24 + 39 = 63$

1 Rechne schriftlich. Bündele und zeichne ein.



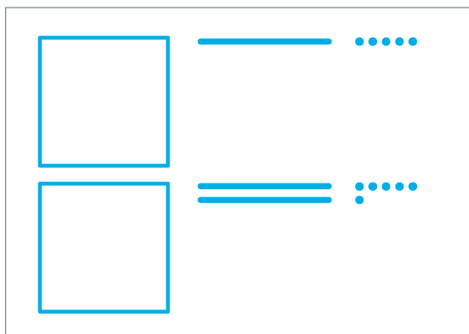
	Z	E
	4	8
+	3	7

$48 + 37 =$



	Z	E
+		

$+ =$



	H	Z	E
+			

$+ =$

2 Rechne schriftlich.

	Z	E
	1	6
+	7	5
	1	
	1	

	Z	E
	4	5
+	3	7

	H	Z	E
	1	3	8
+	1	0	9

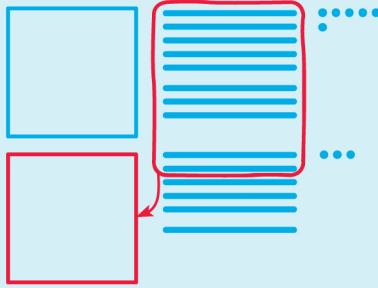
	H	Z	E
	1	0	5
+	1	2	5



Schriftliche Addition

Bündele zehn Zehner in einen Hunderter:

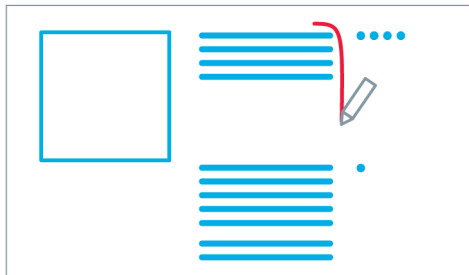
$186 + 63$



H	Z	E
1	8	6
+	6	3
2	14	9
	4	


$186 + 63 = 249$

1 Rechne schriftlich. Bündele und zeichne ein.



H	Z	E
1	4	4
+	7	1
		5

$144 + 71 =$



H	Z	E
+		

$+ =$



H	Z	E
+		

$+ =$

2 Rechne schriftlich. Vergleiche.

	H	Z	E
	1	7	5
+	2	3	
<hr/>			

	H	Z	E
	1	7	5
+	3	4	
<hr/>			

	H	Z	E
	1	7	5
+	4	5	
<hr/>			

	H	Z	E
	1	7	5
+	5	6	
<hr/>			




Schriftlich addieren

1 Rechne schriftlich.

$$\begin{array}{r} \text{H Z E} \\ 146 \\ + 27 \\ \hline 1 \\ 3 \end{array}$$

6 E + 7 E = 13 E.
Ich schreibe 3 und übertrage 10 E.
Ich schreibe **1** bei den Zehnern.



$$\begin{array}{r} \text{H Z E} \\ 129 \\ + 37 \\ \hline \end{array}$$

$$\begin{array}{r} \text{H Z E} \\ 64 \\ + 180 \\ \hline \end{array}$$

$$\begin{array}{r} \text{H Z E} \\ 79 \\ + 29 \\ \hline \end{array}$$

$$\begin{array}{r} \text{H Z E} \\ 105 \\ + 96 \\ \hline \end{array}$$


$$\begin{array}{r} \text{H Z E} \\ 154 \\ + 56 \\ \hline \end{array}$$

$$\begin{array}{r} \text{H Z E} \\ 124 \\ + 110 \\ \hline \end{array}$$

$$\begin{array}{r} \text{H Z E} \\ 116 \\ + 123 \\ \hline \end{array}$$

$$\begin{array}{r} \text{H Z E} \\ 104 \\ + 135 \\ \hline \end{array}$$

$$\begin{array}{r} \text{H Z E} \\ 137 \\ + 104 \\ \hline \end{array}$$



2 Schreibe stellengerecht untereinander. Rechne schriftlich.

$129 + 45$

	H	Z	E
+			
<hr/>			

$57 + 136$

	H	Z	E
+			
<hr/>			

$113 + 128$

	H	Z	E
+			
<hr/>			

$126 + 118$

	H	Z	E
+			
<hr/>			

$162 + 87$

	H	Z	E
+			
<hr/>			

$104 + 140$

	H	Z	E
+			
<hr/>			

$204 + 38$

	H	Z	E
+			
<hr/>			

$140 + 78$

	H	Z	E
+			
<hr/>			

$206 + 24$

	H	Z	E
+			
<hr/>			

$147 + 99$

	H	Z	E
+			
<hr/>			



Übungen zur schriftlichen Addition

Merke:

Schreibe stellengerecht untereinander.

Achte auf die Überträge.



1 Welche Rechnung ist richtig? Kreuze an und erkläre.

$$105 + 34$$

	1	0	5	
+	3	4		
<hr/>				
	4	4	5	

	1	0	5	
+		3	4	
<hr/>				
	1	3	9	

richtig

falsch

richtig

falsch

$$138 + 42$$

	1	3	8	
+		4	2	
<hr/>				
	1	7	0	

	1	3	8	
+		4	2	
<hr/>				
		1		
<hr/>				
	1	8	0	

richtig

falsch

richtig

falsch

$$56 + 128$$

		5	6	
+	1	2	8	
<hr/>				
		1		
<hr/>				
	1	8	4	

		5	6	
+	1	2	8	
<hr/>				
		1		
<hr/>				
	2	7	4	

richtig

falsch

richtig

falsch

$$75 + 165$$

		7	5	
+	1	6	5	
<hr/>				
		1		
<hr/>				
	1	4	0	

		7	5	
+	1	6	5	
<hr/>				
		1	1	
<hr/>				
	2	4	0	

richtig

falsch

richtig

falsch

2 Finde die fehlenden Ziffern.

0	3	8
---	---	---

	1	2	5
+	1	1	■
<hr/>			

2 3 8

0	2	4
---	---	---

		2	4
+	1	1	■
<hr/>			

1 3 6

1	2	7
---	---	---

		3	8
+	2	■	2
<hr/>			
		1	
<hr/>			

2 5 0

0	1	2
---	---	---

		1	8	0
+		■	5	
<hr/>				
		1		
<hr/>				

2 0 5

1 Fehlermuster in den Aufgaben erkennen und den Hinweisen, worauf beim schriftlichen Addieren geachtet werden soll, zuordnen. 2 Fehlende Ziffer in der Lücke finden (ggf. mit einzelnen Ziffern Rechnungen durchführen und mit Ergebnis vergleichen).

